

نام و نام خانوادگی: پایه و رشته: نهم نام پدر: شماره داوطلب:		اداره کل آموزش و پرورش شهر تهران مدیریت منطقه ۲ دبیرستان دوره اول پسرانه امتحانات پایان ترم اول سال تحصیلی ۹۴-۱۳۹۵		نام درس: مطالعات اجتماعی تاریخ امتحان: ۱۳۹۴/۱۰/۱۴ ساعت امتحان: ۱۰۰ دقیقه / عصر مدت امتحان: ۸۰ دقیقه.	
نمره به عدد:	نمره به حروف:	نمره تجدید نظر به عدد:	نمره به حروف:	محل مهر و امضاء مدیر:	نام دبیر:
				تاریخ و امضاء:	نام دبیر:
ردیف	سوالات	بارم			

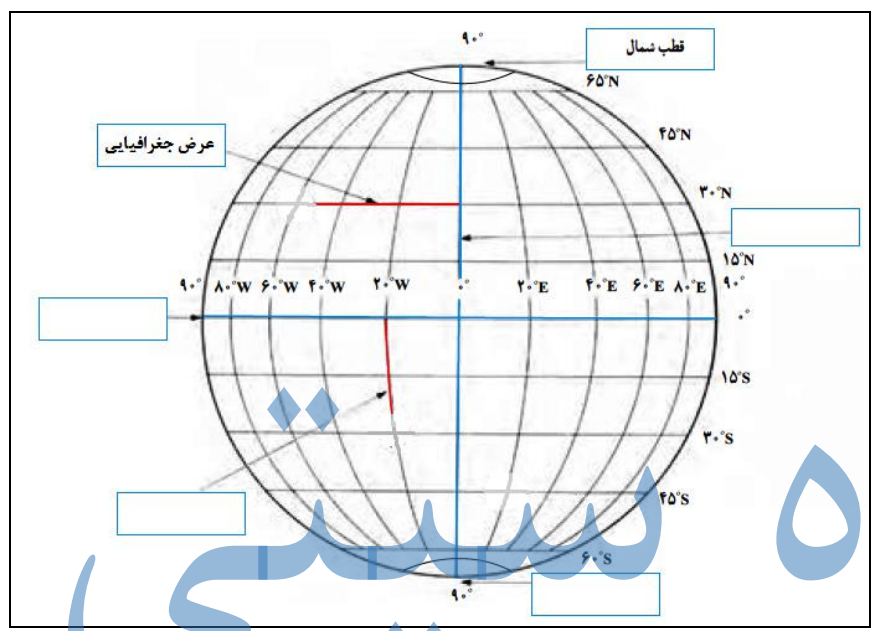
ردیف	سوالات	بارم
الف	سوالات صحیح- غلط (۱ تا ۴)	۲
۱	مهاجرت روستاییان به شهرها را مهاجرت خارجی می گویند.	۰/۵
	<input type="checkbox"/> صحیح <input type="checkbox"/> غلط	
۲	باورهای غلط و ناآگاهی مردم جزء عوامل خارجی نابرابری در جهان است.	۰/۵
	<input type="checkbox"/> صحیح <input type="checkbox"/> غلط	
۳	میزان رشد اقتصادی کشورها را با تولید ناخالص داخلی و درآمد سرانه اندازه گیری می کنند.	۰/۵
	<input type="checkbox"/> صحیح <input type="checkbox"/> غلط	
۴	کوه زایی از جمله نتایج برخورد دو ورقه به یکدیگر است.	۰/۵
	<input type="checkbox"/> صحیح <input type="checkbox"/> غلط	
ب	سوالات چهارگزینه ای (۵ تا ۱۰)	۳
۵	کدام سیاره جزء سیارات درونی منظومه خورشیدی نیست؟	۰/۵
	الف) تیر <input type="checkbox"/> ب) مشتری <input type="checkbox"/> ج) ناهید <input type="checkbox"/> د) مریخ <input type="checkbox"/>	
۶	وکیل الرعایا لقب چه کسی است؟	۰/۵
	الف) کریم خان زند <input type="checkbox"/> ب) نادرشاه <input type="checkbox"/> ج) شاه اسماعیل <input type="checkbox"/> د) شاه عباس اول <input type="checkbox"/>	
۷	کدام گزینه جزء ملاکهای توسعه انسانی محسوب نمی شود؟	۰/۵
	الف) درآمد و رفاه <input type="checkbox"/> ب) امید به ازدواج <input type="checkbox"/> ج) متوسط طول عمر <input type="checkbox"/> د) امید به زندگی <input type="checkbox"/>	
۸	این عامل جنبه اقتصادی دارد و به معنای سطح مطلوب زندگی است.	۰/۵
	الف) سواد و آموزش <input type="checkbox"/> ب) متوسط طول عمر <input type="checkbox"/> ج) امید به زندگی <input type="checkbox"/> د) میزان درآمد و رفاه <input type="checkbox"/>	
۹	به موجب این عهدنامه، ایالت‌های گرجستان و داغستان از حاکمیت ایران خارج شدند و تحت حاکمیت روسیه قرار گرفتند.	۰/۵
	الف) ترکمنچای <input type="checkbox"/> ب) توتون و تنباکو <input type="checkbox"/> ج) تالبوت <input type="checkbox"/> د) گلستان <input type="checkbox"/>	
۱۰	به عمق ۲۰۰۰ تا ۵۰۰۰ متری اقیانوس‌ها اشاره دارد.	۰/۵

	الف) فلات قاره <input type="checkbox"/>	ب) شیب قاره <input type="checkbox"/>	ج) ایوان خشکی <input type="checkbox"/>	د) گودال ماریانا <input type="checkbox"/>
پ	جاخالی (۱۱ تا ۱۴)			
۱۱	در اول دی ماه ما شاهد طولانی ترین شب و در اول شاهد طولانی ترین روز هستیم.			
۱۲	اگر درصد رشد جمعیت به کمتر از صفر برسد، به آن رشد می گویند.			
۱۳	میزان طول عمر یا امید به زندگی در یک جامعه نشان دهنده وضعیت در آن جامعه است.			
۱۴	قرن های شانزدهم تا نوزدهم میلادی را در تاریخ اروپا قرون می نامند.			
ت	سوالات جورکردنی (۱۵)			
۱۵	شماره گزینه مرتبط با هر یک از عبارتهای الف، ب، ج و د را مقابل آن بنویسید (یک گزینه اضافی است).			
	الف) حاصل راه یافتن مواد مذاب به خارج از پوسته زمین است. ()			
	ب) پایین ترین لایه هواکره که نزدیک به سطح زمین است. ()			
	ج) برابر شدن درازی روز و شب در اول بهار و اول پاییز را گویند. ()			
	د) از بین بردن کامل جنگل ها در یک ناحیه را گویند. ()			
	۱- تروپوسفر			
	۲- اعتدالین			
	۳- کوه های آتشفشانی			
	۴- اتمسفر			
	۵- جنگل زدایی			
ث	تکمیل نمودار (هر مورد ۰/۵ نمره)			
۱۶	<div style="display: flex; justify-content: space-around;"> <div style="text-align: center;"> <p>معنی و مفهوم رنگها در نقشه</p> <pre> graph TD A[معنی و مفهوم رنگها در نقشه] --> B[رنگ سبز] A --> C[رنگ زرد و قهوه ای] B --> B1[] C --> C1[] </pre> </div> <div style="text-align: center;"> <p>انواع حرکات زمین</p> <pre> graph TD A[انواع حرکات زمین] --> B[] A --> C[] </pre> </div> </div>			
ج	تکمیل جدول (هر مورد ۰/۵ نمره)			

ردیف	توضیح	پاسخ
۱	قدرتمندترین پادشاه صفوی که حکومت صفوی را به اوج قدرت رساند.	
۲	به جابجایی یا حرکت خورشید در آسمان گفته می‌شود.	
۳	دامنه این کوه‌ها شیب تندی دارد و دره‌های بین آنها V شکل است.	
۴	از جمله نتایج برخورد دو ورقه به یکدیگر است.	



تکمیل نقشه (هر مورد ۰/۵ نمره)

موارد خواسته شده را داخل کادر مربوطه بنویسید.



چیستان (هر مورد ۰/۵ نمره)

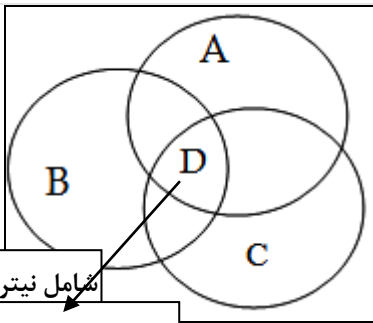
الف) من کیستم؟ «آخرین پادشاه زندیه (لطفعلی خان) به دست من کشته شد و سلسله قاجار را من پایه‌گذاری کردم».
 ب) من چیستم؟ «تالبوت قصد در اختیار داشتن انحصاری خرید و فروش من را داشت و آیت... میرزا حسن شیرازی فتوای تحریم من را صادر کرد».



تکمیل شکل (هر مورد ۰/۵ نمره)

با فرض اینکه شکل زیر مربوط به چهار محیط سیاره زمین است، نام هر یک از محیط‌های چهارگانه را داخل کادر مربوطه بنویسید.

شامل سنگ و خاک است. ()



شامل نیتروژن و اکسیژن است. ()

شامل انسان‌ها، گیاهان و جانوران است. ()

شامل دریاها و اقیانوس‌ها است. ()

۲		۵
۰/۵	پس از شاه اسماعیل چه کسی به حکومت رسید و کدام شهر را پایتخت قرار داد؟	۲۱
۰/۵	دو مورد از اقدامات امیرکبیر که طی دوران وزارت خود انجام داد را بنویسید.	۲۲
۰/۵	بنیان‌گذار سلسله‌ی زندیه که بود و لقبش چه بود؟	۲۳
۰/۵	دو عهدنامه‌ی ننگین که در زمان فتحعلی‌شاه میان ایران و روسیه منعقد شد را بنویسید.	۲۴
<p>پیروز و سربلند باشید!</p> <p>«کریمی»</p>		

نام درس: مطالعات اجتماعی
تاریخ امتحان: ۱۳۹۴/۱۰/۱۴
ساعت امتحان: ۸:۰۰ صبح تا عصر
مدت امتحان: ۸۰ دقیقه.

اداره کل آموزش و پرورش شهر تهران
مدیریت منطقه ۲
دبیرستان دوره اول پسرانه
امتحانات پایان ترم اول سال تحصیلی ۱۳۹۵-۹۴

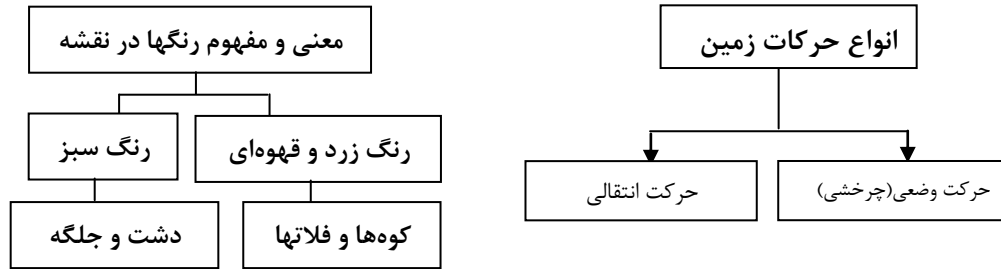
نام و نام خانوادگی:
پایه و رشته: نهم
نام پدر:
شماره داوطلب:

پاسخنامه

بارم	سؤالات	ردیف
۲	سوالات صحیح- غلط (۱ تا ۴)	الف
۰/۵	غلط	۱
۰/۵	غلط	۲
۰/۵	صحیح	۳
۰/۵	صحیح	۴
۳	سوالات چهارگزینه‌ای (۵ تا ۱۰)	ب
۰/۵	گزینه ب	۵
۰/۵	گزینه الف	۶
۰/۵	گزینه ب	۷
۰/۵	گزینه د	۸
۰/۵	گزینه د	۹
۰/۵	گزینه ب	۱۰
۲	جاخالی (۱۱ تا ۱۴)	پ
۰/۵	تیرماه	۱۱
۰/۵	منفی	۱۲
۰/۵	سلامت و بهداشت	۱۳
۰/۵	جدید	۱۴

- الف) (۳)
- ب) (۱)
- ج) (۲)
- د) (۵)

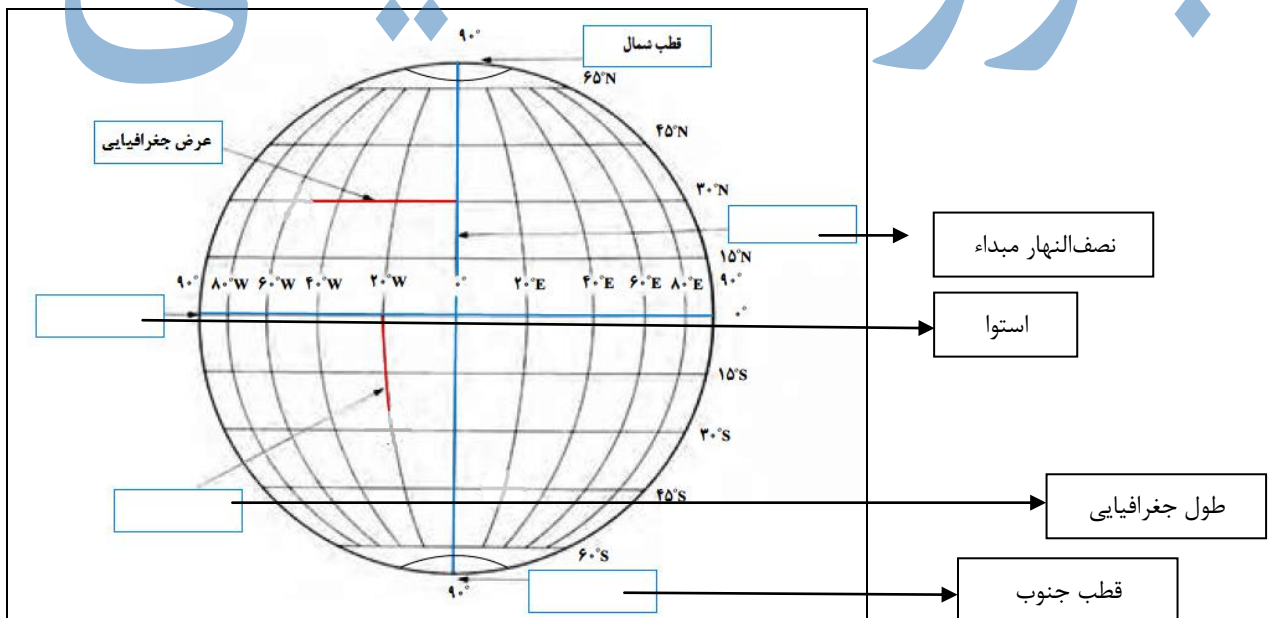
تکمیل نمودار (هر مورد ۰/۵ نمره)



تکمیل جدول (هر مورد ۰/۵ نمره)

ردیف	توضیح	پاسخ
۱	قدرتمندترین پادشاه صفوی که حکومت صفوی را به اوج قدرت رساند.	شاه عباس اول
۲	به جابجایی یا حرکت خورشید در آسمان گفته می‌شود.	حرکت ظاهری
۳	دامنه این کوهها شیب تندی دارد و دره‌های بین آنها V شکل است.	کوههای جوان
۴	از جمله نتایج برخورد دو ورقه به یکدیگر است.	کوهزایی

تکمیل نقشه (هر مورد ۰/۵ نمره)
موارد خواسته شده را داخل کادر مربوطه بنویسید.



چیستان (هر مورد ۰/۵ نمره)

الف) من کیستم؟ «آخرین پادشاه زندیه (لطفعلی خان) به دست من کشته شد و سلسله قاجار را من پایه‌گذاری کردم».

	<p>(ب) من چیستم؟ «تالپوت قصد در اختیار داشتن انحصاری خرید و فروش من را داشت و آیتا... میرزا حسن شیرازی فتوای تحریم من را صادر کرد».</p> <p>توتون و تنباکو</p> <p>آقامحمدخان قاچار</p> <p>(الف) (ب)</p>	
۲	<p>تکمیل شکل (هر مورد ۰/۵ نمره)</p> <p>با فرض اینکه شکل زیر مربوط به چهار محیط سیاره زمین است، نام هر یک از محیط‌های چهارگانه را داخل کادر مربوطه بنویسید.</p> <p>شامل سنگ و خاک است. (سنگ کره یا لیتوسفر)</p> <p>شامل نیتروژن و اکسیژن است. (هواکره یا اتمسفر)</p> <p>شامل دریاها و اقیانوس‌ها است. (آب کره یا هیدروسفر)</p> <p>شامل انسان‌ها، گیاهان و جانوران است. (زیست کره یا بیوسفر)</p>	خ ۲۰
۲		۵
۰/۵		۲۱
۰/۵	<p>۲ مورد از موارد ذیل:</p> <ol style="list-style-type: none"> برقرار کردن امنیت و آرامش تأسیس مدرسه دارالفنون نوسازی و کارآمدی تشکیلات حکومتی مبارزه با مفاسد اداری و مالی فرستادن دانشجویان به اروپا دستور استخدام و تدریس معلمان کشورهای خارجی در دارالفنون 	۲۲
۰/۵		۲۳
۰/۵		۲۴
<p>پیروز و سربلند باشید! «کریمی»</p>		